

社会科 学習課題振り返り問題

(1) 右の図の1～6にあてはまる言葉下の語群の中から選んで答えなさい。

1 北緯90度の点

( )

2 南緯90度の点

( )

3 北緯90度と南緯90度をたてに結ぶ線

( )

4 緯度0度に平行に引かれた線

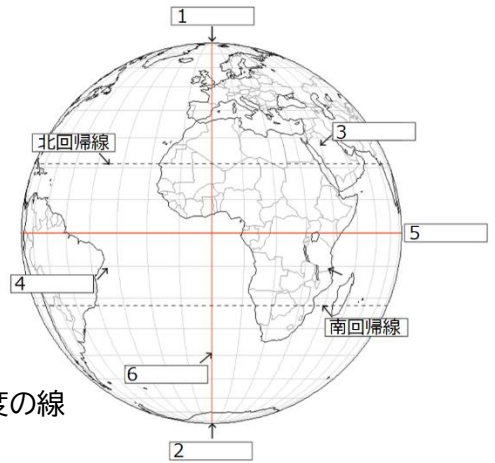
( )

5 地球を南北に90度に分けるときに中心になる緯度0度の線

( )

6 イギリスのロンドンを通る、経度0度の線

( )



語群

【 南極点 ・ 北極点 ・ 経線 ・ 緯線 ・ 赤道 ・ 本初子午線 】

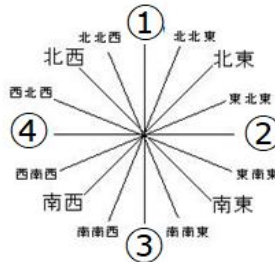
(2) 右の図の①～④の空らんに入る言葉を16方位の示し方で答えなさい。

① ( )

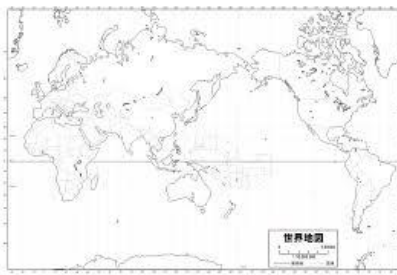
② ( )

③ ( )

④ ( )



(3) 下の2つの地図について答えなさい。



メルカトル図法



正距方位図法

① 中心との距離と方位が正しい地図はどちらの地図ですか。( )

② 緯線と経線が直角に交わった地図はどちらの地図ですか。( )

社会科 学習課題振り返り問題 解答

(1) 1, <sup>ほつぎょくてん</sup>北極点 2, <sup>なんぎょくてん</sup>南極点 3, <sup>けいせん</sup>経線 4, <sup>いせん</sup>緯線 5, <sup>せきどう</sup>赤道 6, <sup>ほんしよしごせん</sup>本初子午線

(2) ①<sup>きた</sup>北 ②<sup>ひがし</sup>東 ③<sup>みなみ</sup>南 ④<sup>にし</sup>西

(3) ①<sup>せいきよほういずほう</sup>正距方位図法 ②<sup>めるかとりずほう</sup>メルカトル図法