

1 年生理科 家庭学習課題の確認 (5 月 22 日)

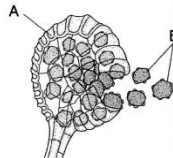
1 年 () 組 () 番 氏名 ()

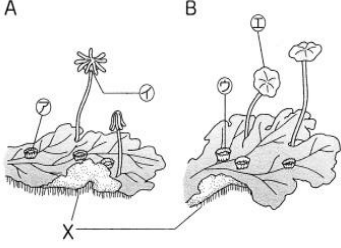
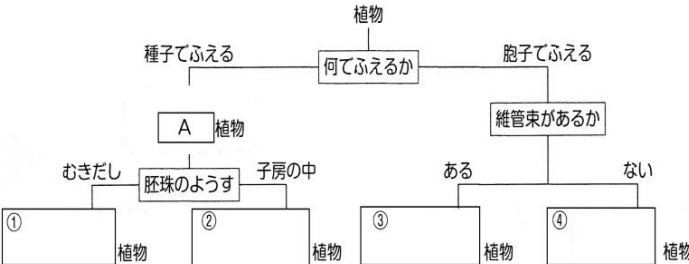
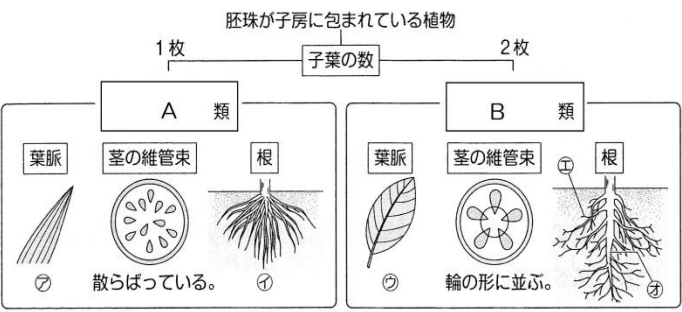
①次の問題の答えを解答の欄に書きましょう。

②わからないときは、持ってきた理科ノートを見て、調べて解答を書きましょう。

③問題を解き終わったら、答え合わせをして、覚えていなかったところをしっかりと覚えましょう。

問題 番号	問題	解答
1	下の文にあてはまる言葉を答えましょう。 タンポポは (①) という太い根から (②) という細い根を伸ばしている。イネは (③) という多数の細い根を広げている。	① ② ③
2	根の先端近くに生えている小さな毛のようなものを何といいますか。	
3	茎について説明した下の文にあてはまる言葉を答えましょう。 根から吸収した水や養分が通る管を (①)、葉で作られた栄養分が通る管を (②) といい、これらが集まった束を (③) という。	① ② ③
4	ホウセンカやトウモロコシの茎の維管束は、どのように並んでいますか。	ホウセンカ・・・ トウモロコシ・・・
5	下の文に当てはまる言葉を書きましょう。 右の図の A は、イヌワラビの葉の (①) に多数見られる (②) で、B の (③) によってなかまをふやす。	① ② ③
6	シダ植物に維管束はありますか。	



7	ゼニゴケは、何という植物のなかまでですか。	
8	<p>右の図はゼニゴケの体のつくりを表している。</p> <p>①雄株は A,B のどちらですか。 A B</p> <p>②胞子は、㉗～㉓のどの部分にできますか。記号で答えよ。</p> <p>③X の部分を何といいますか。</p> 	<p>①</p> <p>②</p> <p>③</p>
9	<p>植物を下の図のようになかま分けしました。</p> <p>(1) Aと①～④に当てはまる言葉を答えましょう。</p> 	<p>A 植物</p> <p>① 植物</p> <p>② 植物</p> <p>③ 植物</p> <p>④ 植物</p>
10	スギゴケ、ワラビはそれぞれ図の①～④のどのなかまに分けられるか、記号で答えよ。	<p>スギゴケ ()</p> <p>ワラビ ()</p>
11	<p>胚珠が子房に包まれている植物を下の図のようになかま分けしました。</p> <p>(1) AとBに当てはまる言葉を答えましょう。</p>  <p>(2) 図の㉗～㉙をそれぞれ何と呼ぶか答えよ。</p>	<p>(1) A 類</p> <p>B 類</p> <p>(2) ア</p> <p>イ</p> <p>ウ</p> <p>エ</p> <p>オ</p>
12	アブラナとアサガオは花弁の特徴から、それぞれ何というなかまに分けられるか答えよ。	<p>アブラナ 類</p> <p>アサガオ 類</p>

1 年生 理科 5 月 29 日以降の課題について

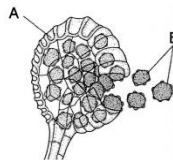
提出する課題はありません。これまで学習したところを復習しておきましょう。

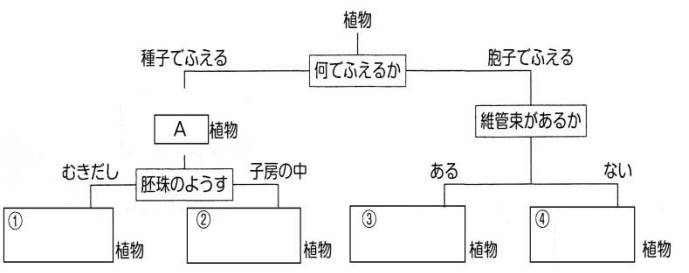
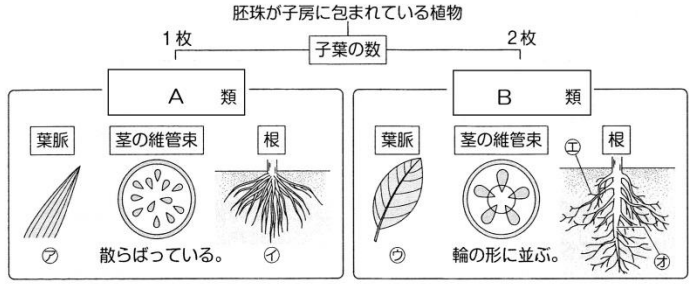
授業が始まったら、確認テストがありますので家庭学習課題の確認プリントを覚えておきましょう。

(次の持ち物) 教科書、理科ノート、ネームペン

(模範解答)

問題番号	問題	解答
1	下の文にあてはまる言葉を答えましょう。 タンポポは (①) という太い根から (②) という細い根を伸ばしている。イネは (③) という多数の細い根を広げている。	① 主根 ② 側根 ③ ひげ根
2	根の先端近くに生えている小さな毛のようなものを何といいますか。	根毛
3	茎について説明した下の文にあてはまる言葉を答えましょう。 根から吸収した水や養分が通る管を (①)、葉で作られた栄養分が通る管を (②) といい、これらが集まった束を (③) という。	① 道管 ② 師管 ③ 維管束
4	ホウセンカやトウモロコシの茎の維管束は、どのように並んでいますか。	ホウセンカ・・・ 輪のように並んでいる トウモロコシ・・・ 散らばっている
5	下の文に当てはまる言葉を書きましょう。 右の図の A は、イヌワラビの葉の (①) に多数見られる (②) で、B の (③) によってなかまをふやす。	① 裏 ② 胞子のう ③ 胞子
6	シダ植物に維管束はありますか。	ある



7	ゼニゴケは、何という植物のなかまですか。	コケ植物
8	<p>右の図はゼニゴケの体のつくりを表している。</p> <p>①雄株はAとBのどちらですか。</p> <p>②胞子は、㉗～㉝のどの部分にできますか。記号で答えよ。</p> <p>③Xの部分を何といいますか。</p>	<p>① B</p> <p>② イ</p> <p>③ 仮根</p>
9	<p>植物を下の図のようになかま分けしました。</p> <p>(1) Aと①～④に当てはまる言葉を答えましょう。</p> 	<p>A 種子植物</p> <p>① 裸子植物</p> <p>② 被子植物</p> <p>③ シダ植物</p> <p>④ コケ植物</p>
10	スギゴケ、ワラビはそれぞれ図の①～④のどのなかまに分けられるか、記号で答えよ。	<p>スギゴケ (④)</p> <p>ワラビ (③)</p>
11	<p>胚珠が子房に包まれている植物を下の図のようになかま分けしました。</p> <p>(1) AとBに当てはまる言葉を答えましょう。</p>  <p>(2) 図の㉗～㉙をそれぞれ何と呼ぶか答えよ。</p>	<p>(1) A 単子葉類</p> <p>B 双子葉類</p> <p>(2) ア 平行脈</p> <p>イ ひげ根</p> <p>ウ 網状脈</p> <p>エ 側根</p> <p>オ 主根</p>
12	アブラナとアサガオは花弁の特徴から、それぞれ何というなかまに分けられるか答えよ。	<p>アブラナ 離弁花類</p> <p>アサガオ 合弁花類</p>